



INVESTICE DO ROZVOJE VZDĚLÁVÁNÍ


1. Namaluj stejný počet květin.



2. Namaluj o 3 květiny více a napiš příklad.



3. Nakresli o 2 motýly méně a napiš příklad.



4. Maminka dostala 3 karafiáty. Teta však dostala o 2 karafiáty více. Kolik dostala teta karafiátů?

Nakresli: Maminka: _____

Teta : _____

Vypočítej: _____

Odpověď: _____



5. Pavlík v lese našel 10 jahod. Helenka o čtyři jahody méně. Kolik jich měla Helenka?

Nakresli: Pavlík: _____

Helenka: _____

Vypočítej: _____

Odpověď: _____



6. Vypočítej příklady.

$5 + 5 =$

$2 + 8 =$

$1 + 9 =$

$15 + 5 =$

$12 + 8 =$

$11 + 9 =$

$6 + 4 =$

$7 + 3 =$

$8 + 2 =$

$16 + 4 =$

$17 + 3 =$

$18 + 2 =$

$15 - 5 =$

$14 - 4 =$

$12 - 2 =$

$19 - 9 =$

$18 - 2 =$

$14 - 2 =$

$12 - 1 =$

$19 - 3 =$


$17 - 3 =$

$18 - 4 =$

$15 - 3 =$

$16 - 4 =$

7. Motýlek se snaží najít svého kamaráda. Může postoupit na pole buď o 2 větší, nebo o 2 menší. Pomůžeš mu?



8. Namaluj mince, kterými můžeš zaplatit za nákup.

16	
20	
17	

9. Porovnej (<, >, =).

16	20	13	4	20	19	14	14
17	17	5	9	13	11	20	18
14	14	17	18	0	11	12	13

Zdroj použité literatury a materiálu:

<http://www.i-creative.cz/category/sablony-a-omalovanky/page/3/>

<http://www.i-creative.cz/2010/05/05/sablony-kvetin/>

<http://www.omalovanky.biz/zvirata-omalovanky.html>

<http://wiki.rvp.cz/Kabinet/Obrazky/0.0.0.Kliparty/Dome%C4%8Dek/Kv%C4%9Btiny>

<http://wiki.rvp.cz/index.php?title=Kabinet/Obrazky/0.0.0.Kliparty/Kv%C4%9Btiny&galleryOffset=30>