



INVESTICE DO ROZVOJE VZDĚLÁVÁNÍ

1. Sečti různobarevné kostky a vytvoř příklady.




\_\_\_\_\_

\_\_\_\_\_



\_\_\_\_\_

\_\_\_\_\_



\_\_\_\_\_

\_\_\_\_\_

2. Vypočítej.

$30 + 40 =$

$20 + 10 =$

$50 + 10 =$

$20 + 40 =$

$10 + 60 =$

$70 + 20 =$

$40 + 60 =$

$50 + 10 =$

$20 + 50 =$

$30 + 10 =$

$20 + 30 =$

$30 + 70 =$

$70 + 20 =$

$40 + 50 =$

$80 + 20 =$

$60 + 20 =$

$80 + 10 =$

$90 + 10 =$

$10 + 30 =$

$30 + 20 =$

3. Rozlož čísla na desítky a jednotky.



\_\_\_\_\_

4. Srovnej číslice od nejmenšího po největší.

100 , 43 , 24, 0, 10, 64, 88, 93, 5, 11, 36, 55, 73.



\_\_\_\_\_

5. Na obloze poletovalo 7 modrých draků. Červených létalo o 7 více. Kolik bylo na obloze červených draků?


Znázorni: \_\_\_\_\_

Vypočítej: \_\_\_\_\_

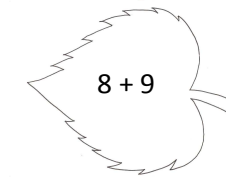
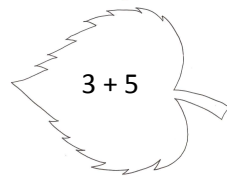
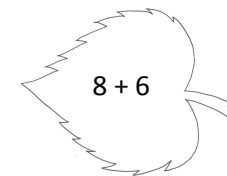
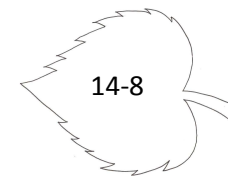
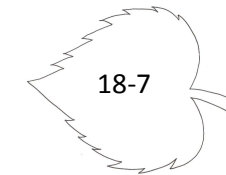
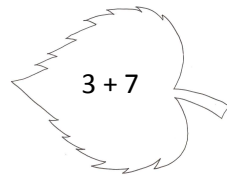
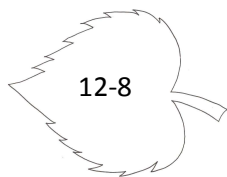
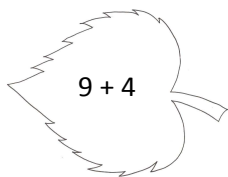
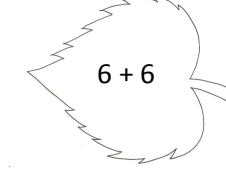
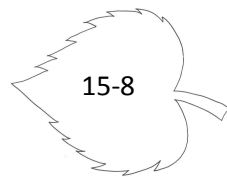
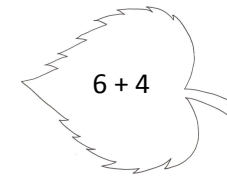
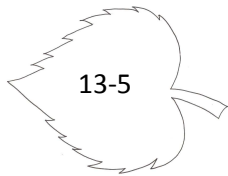
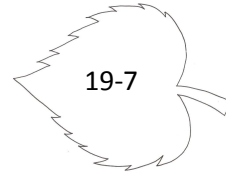
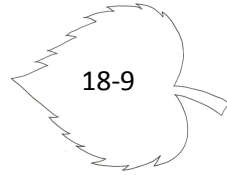
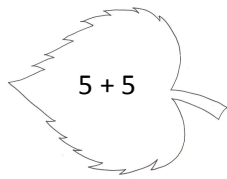
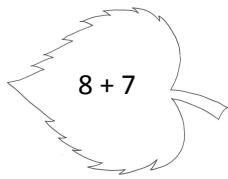
Odpověď: \_\_\_\_\_



6. Spoj čísla od největšího k nejmenšímu.



7. Vybarvi listy podle výsledku:  $< 10$  žlutě  
 $> 10$  červeně  
 $= 10$  hnědě



8. Ivča utrhla 17 jablek. Olda utrhl o 9 jablek méně. Kolik jich Olda utrhl?

Znázorni: \_\_\_\_\_



Vypočítej: \_\_\_\_\_

Odpověď: \_\_\_\_\_

9. Vypočítej příklady.

$30 + 60 =$

$10 + 90 =$

$50 + 40 =$

$80 + 20 =$

$40 + 30 =$

$60 + 30 =$

$20 + 40 =$

$30 + 30 =$

**Zdroj použité literatury a materiálu:**

<http://deti.vira.cz/Omalovanky/Lampiony/fg/Podzimni-obrazky/183>

<http://www.i-creative.cz/2008/09/18/omalovanky-pousteni-draka/>

<http://www.predskolaci.cz/?tag=podzimni-basnicky>

<http://www.i-creative.cz/2009/11/23/omalovanky-jablka-a-jablicka/>