


INVESTICE DO ROZVOJE VZDĚLÁVÁNÍ

## PŘEVODY JEDNOTEK ČASU

Jednotky délky						
sekunda	minuta	hodina	den	týden	měsíc	rok
<b>s</b>	<b>min</b>	<b>h</b>	<b>24 h</b>	<b>7 dní</b>	<b>28(29)</b>	<b>365</b>
60 s =	1 min				<b>30 nebo</b>	<b>nebo</b>
	60 min =	1 h			31 dní	366 dní



Převeď správně jednotky času.

7 min =	s	60 s =	min	12 h =	min	360 min =	h
10 min =	s	960 s =	min	2 h =	min	780 min =	h
9 min =	s	300 s =	min	7 h =	min	1 440 min =	h
2 min =	s	480 s =	min	3 h =	min	840 min =	h
4 min =	s	720 s =	min	5 h =	min	660 min =	h

Vypočítej pomocí přímé úměrnosti.

Kolik hodin má jeden den? Kolik hodin má.....

dny	1	2	3	4	5	6	7
hodiny							

Vypočítej pomocí přímé úměrnosti.

Kolik hodin má jeden týden? Kolik hodin má.....

týdny	1	2	3	4
hodiny				



Doplň počty dnů v měsících roku.

leden  
31

únor

březen

duben

květen  
31

červen

červenec

srpen  
31

září

říjen

listopad

prosinec  
31

Vypočítej, kolik hodin má jeden rok, pokud není přestupný? Počítej písemně.

Vypočítej, kolik minut má jeden rok, pokud není přestupný?

Odpověď:

Vypočítej, kolik dní jsi na světě.

---

---

---

Kolik je to hodin?

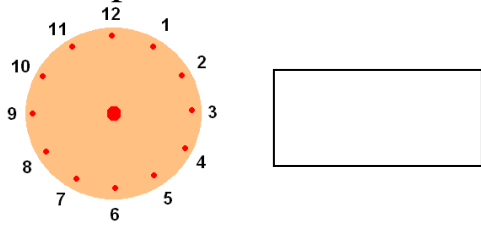
---

---

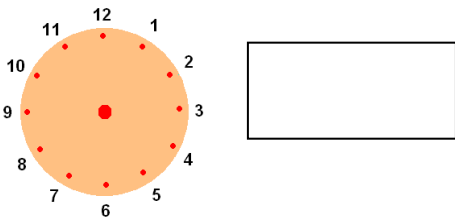
---

Jirka si zapisoval svůj denní režim. Dopiš do budíků ručičky a zapiš čas také digitálně.

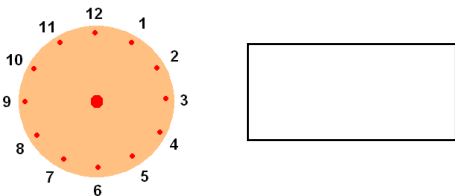
Ráno mi budík zvoní deset minut před sedmou hodinou.



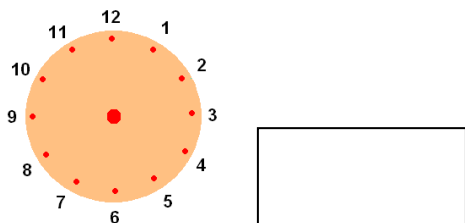
Snídám v sedm hodin.



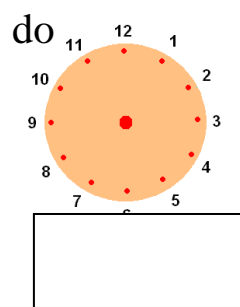
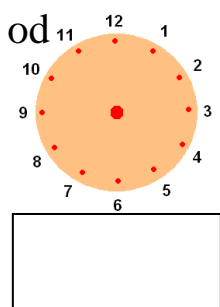
Do školy vycházím z domu ve tři čtvrtě na osm.



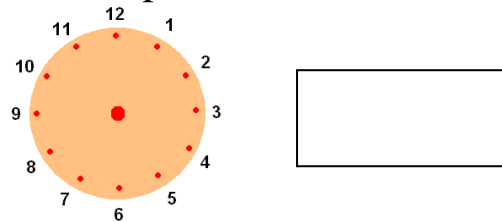
První vyučovací hodina začíná v osm hodin ráno.



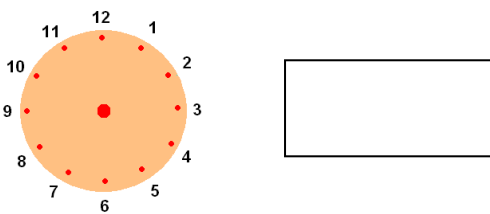
Velká přestávka trvá dvacet minut. Končí v deset hodin



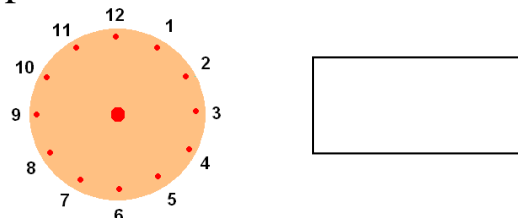
Poslední vyučovací hodina končí v půl druhé.



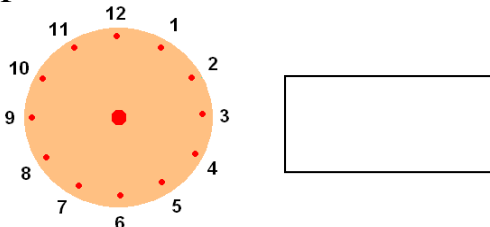
Po návratu ze školy chodím na trénink florbalu. Trénink končí ve čtvrt na šest.



Večeřím před seriálem Ulice, v půl sedmé.



Spát chodím v devět hodin.



Jirka jel s oddílem florbalu na zápas do Brna. Když přišli na vlakové nádraží na vývěsní tabuli zjistili:



číslo vlaku	směr	příjezd Třebíč	odjezd Třebíč	příjezd Brno	zpoždění
Os 4811	Brno	12: 26	12: 39	14:14	80 min

V kolik hodin přijede zpožděný vlak do Třebíče?

Výpočet:

---

---

Odpověď: \_\_\_\_\_

V kolik hodin bude vlak v Brně, jestliže nástup cestujícím trvá 2 minuty a cesta trvá 1h a 35 minut ? Vlož do tabulky a vypočítej.

číslo vlaku	směr	příjezd Třebíč	odjezd Třebíč	příjezd zpožděného vlaku Brno
Os 4811	Brno			

Výpočet:

---

---

---

Odpověď: \_\_\_\_\_

Ve sportovní hale se florbalové družstvo zdrželo 195 minut.

Kolik hodin a kolik minut to bylo?

Výpočet:

---

---

Odpověď: \_\_\_\_\_

Použité pomůcky a materiály

<http://www.pcpomocnik.cz/c/zajprog/kalendar-na-pocitaci---organizer.htm>

[http://en.clipart-fr.com/clipart\\_pictures.php?id=10668](http://en.clipart-fr.com/clipart_pictures.php?id=10668)